




Ciclo Inicial

1º




CONTENIDOS DIDÁCTICOS


Ciclo Inicial 1º




Discriminación visual.




Razonamiento matemático.



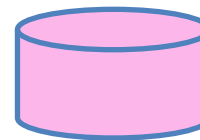
Plástica.



Expresión escrita.



Orden verbal.



Vocabulario.



**El Faro de Portopí, tiene 4 “cuerpos”.
¿Lo puedes desmontar tú, dibujándolos?**

1

A large, empty rounded square box with a blue border, intended for drawing the first part of the lighthouse.

2

A large, empty rounded square box with a blue border, intended for drawing the second part of the lighthouse.

3

A large, empty rounded square box with a blue border, intended for drawing the third part of the lighthouse.

4

A large, empty rounded square box with a blue border, intended for drawing the fourth part of the lighthouse.



Este objeto tiene 5 bombillas.


Pero se le han “fundido” 2.

¿Cuántas le quedan?

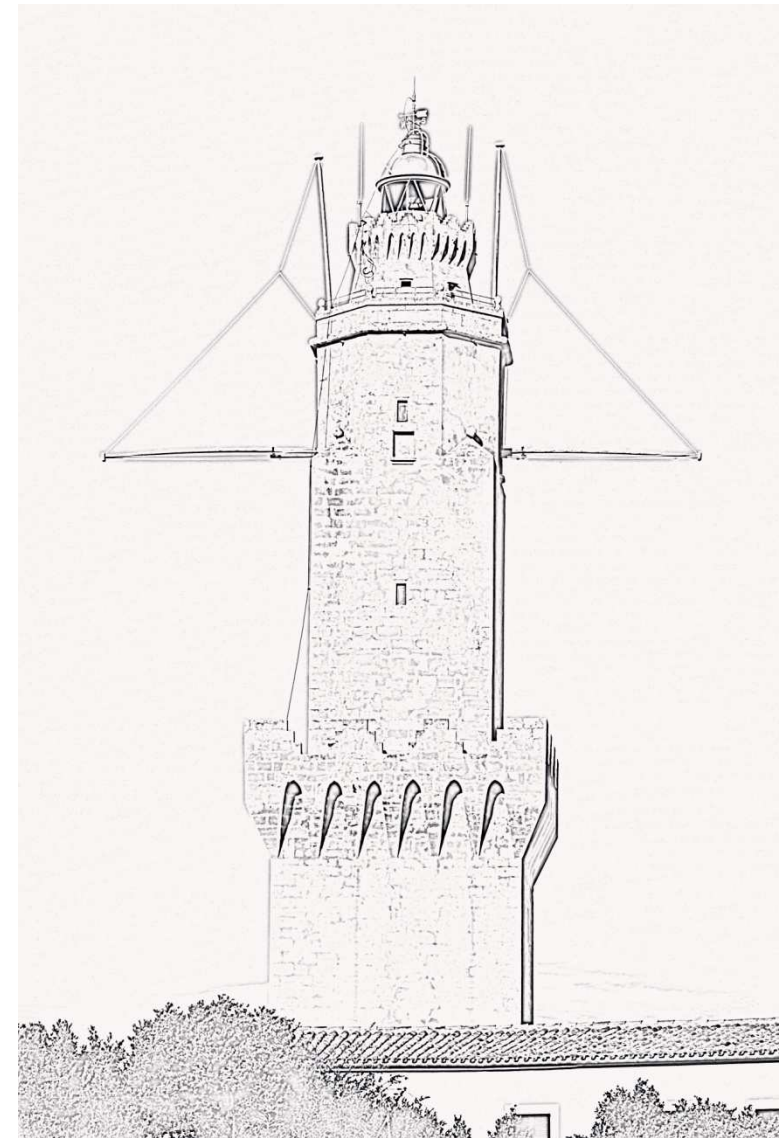
$$\begin{array}{r} \dots\dots\dots \text{---} \dots\dots\dots = \dots\dots\dots \\ 5 \\ - 2 \\ \hline \end{array}$$


Le quedan.....bombillas.





De estas banderas, elige 2 y cuélgaselas al Faro de Portopí.






¿Por qué crees que algunas “ópticas” de los faros, son tan grandes?



.....

.....

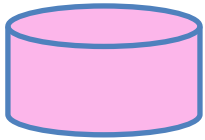


Ordena estas palabras para que formen frases.

Portopí faro El de



Mallorca Palma en de está



Fíjate en este pararrayos que está en Portopí.

¿Para qué crees que servía?

.....

¿Qué te imaginas que pasaba en las noches de tormenta?

.....

.....



Guía Didáctica: Kole Seoane, profesora especialista en
Ed. Infantil y Primaria.

Material gráfico: Kole Seoane.
Autoridad Portuaria de Baleares
(Exposición de Señales Marítimas, Faro de Portopí).